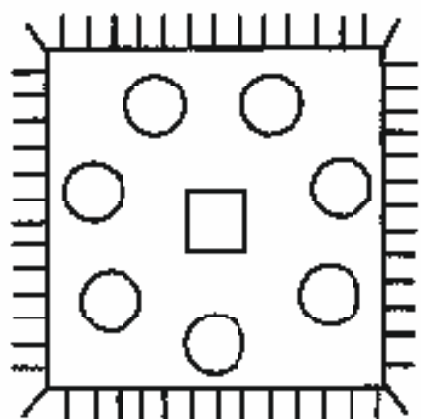
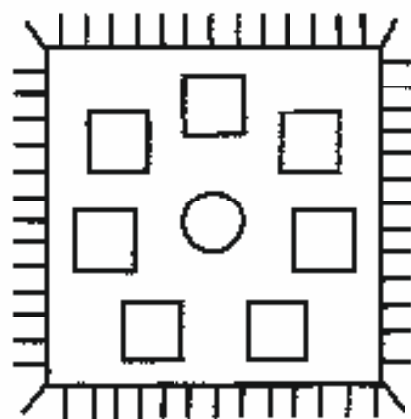


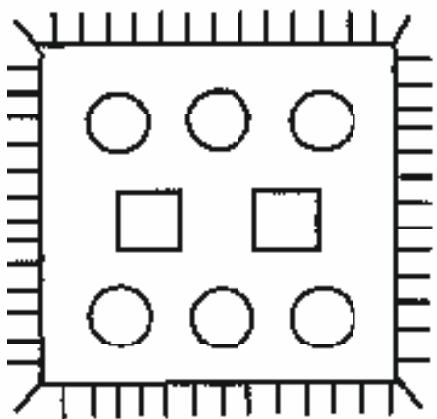
Закрась на каждой салфетке круги жёлтым, а квадраты — синим карандашом. Сколько кругов и сколько квадратов на каждой салфетке? Сколько всего фигур на каждой салфетке? Под каждой салфеткой в пустых клеточках напиши нужные числа, чтобы получились верные равенства.



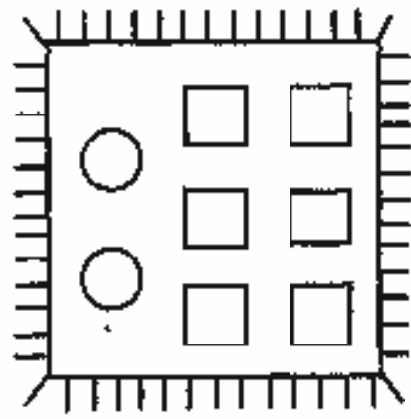
$$\square + \square = \square$$



$$\square + \square = \square$$




$$\square + \square = \square$$



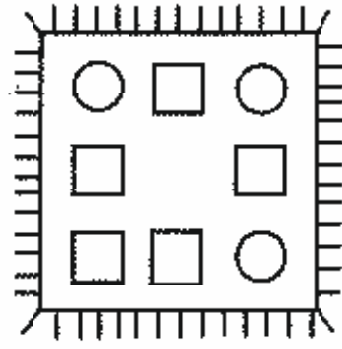
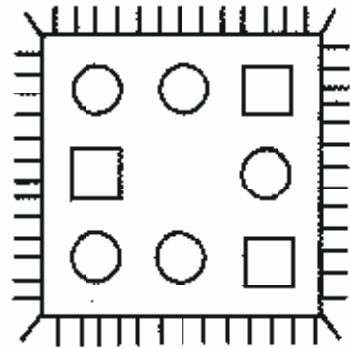
$$\square + \square = \square$$

Как составлено число восемь? Назови все варианты.



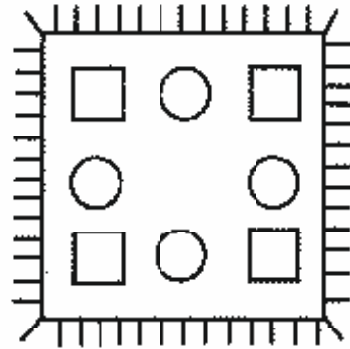
Дорисуй предметы в каждой группе так, чтобы их было по восемь.





$$\square + \square = \square$$

$$\square + \square = \square$$



$$\square + \square = \square$$

СОСТАВ ЧИСЛА 8

$$\begin{array}{c} 8 \\ \swarrow \quad \searrow \\ 7 + 1 \end{array}$$

$$\begin{array}{c} 8 \\ \swarrow \quad \searrow \\ 1 + 7 \end{array}$$

$$\begin{array}{c} 8 \\ \swarrow \quad \searrow \\ 6 + 2 \end{array}$$

$$\begin{array}{c} 8 \\ \swarrow \quad \searrow \\ 2 + 6 \end{array}$$

$$\begin{array}{c} 8 \\ \swarrow \quad \searrow \\ 5 + 3 \end{array}$$

$$\begin{array}{c} 8 \\ \swarrow \quad \searrow \\ 3 + 5 \end{array}$$

$$\begin{array}{c} 8 \\ \swarrow \quad \searrow \\ 4 + 4 \end{array}$$

Впиши недостающие числа так, чтобы в каждом треугольнике в сумме получилось число 8.

